



RENPLACER L'ADDITION :
... paquets de ...

**Plusieurs
fois la
même
quantité**



RANGER :
... rangées de ...



COMPARER : combien de fois plus

Pour faire sa terrasse rectangulaire, Lucien a besoin de 23 carreaux pour la longueur et de 12 carreaux pour la largeur.




Combien de carreaux lui faut-il ?

Je donne 1 carré de chocolat à chaque enfant. Ma tablette a 8 rangées de 4 carrés chacune.

A combien d'enfants puis-je donner 1 carré de chocolat ?

1 bus peut contenir 54 passagers.

Combien de passagers peuvent monter dans 5 bus ?

Je dessine trois figures géométriques (  ). J'ai 3 couleurs pour les colorier.

Combien aurai-je de figures différentes à la fin de mon coloriage?

Pierre a 9 ans et son père est 4 fois plus âgé que lui.

Quel âge a son père ?

La reine des abeilles pond environ 2 500 œufs par jour.

Combien pondra-t-elle d'œufs en 10 jours, en 20 jours ?