
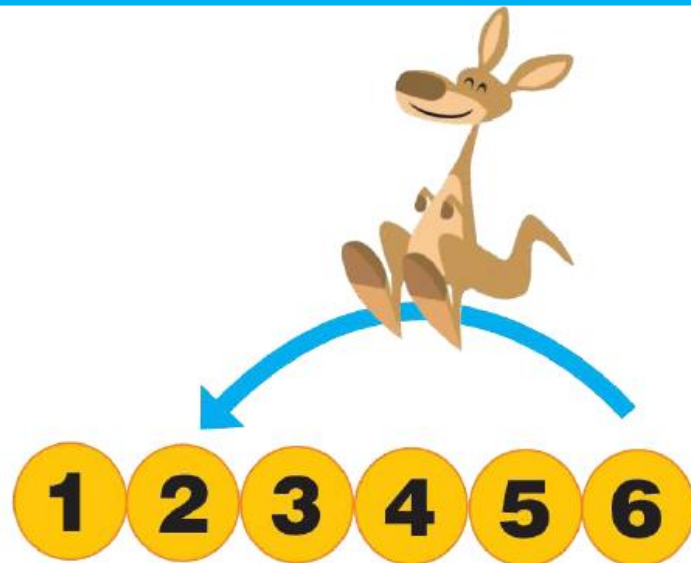


COMPARER : qui a « le moins »



ENLEVER



RECULER



**CALCULER UN
ECART**

Au jeu de l'oie, Paul lance 2 dés, la somme des nombres est 13. Il avance son pion et tombe sur la case 48.
D'où est-il parti ?

Sophie joue au jeu de l'oie, elle est sur la case 17. Elle doit reculer de 5 cases.

Sur quelle case va-t-elle arriver ?

Dans un stade de football, on compte 3 742 spectateurs. 2 110 sont venus encourager l'équipe des bleus.

Combien encouragent l'équipe des rouges ?

Dans une salle de spectacle, il y a 1 800 places. 1 296 places sont occupées.

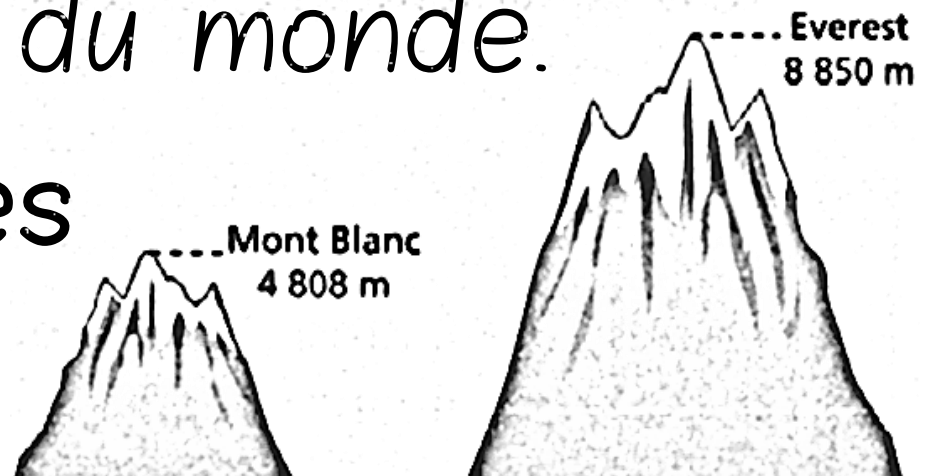
Combien de places sont inoccupées ?

Jean mesure 1m46 et sa sœur Julie 1m34.

Quel est l'écart de taille entre eux ?

Le Mont Blanc est la plus haute montagne d'Europe. L'Everest est la plus haute montagne du monde.

De combien de mètres est-il plus haut ?



La France compte 10 millions de chiens. C'est 4,5 millions de plus qu'en Italie.

Combien y a-t-il de chiens en Italie ?

Cette année, il y a eu 34 387 visiteurs à l'exposition Florissimo. On a vendu 6 704 billets de plus qu'en 1998.

Combien y avait-il eu de visiteurs en 1998 ?